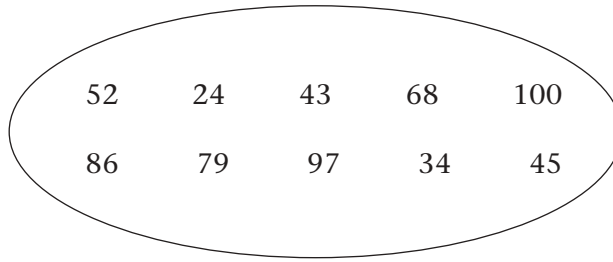


14. Zahlen bis hundert

a) Lies die Zahlen und mach Pfeile. 

vierunddreißig
zweiundfünfzig
achtundsechzig
siebenundneunzig
hundert

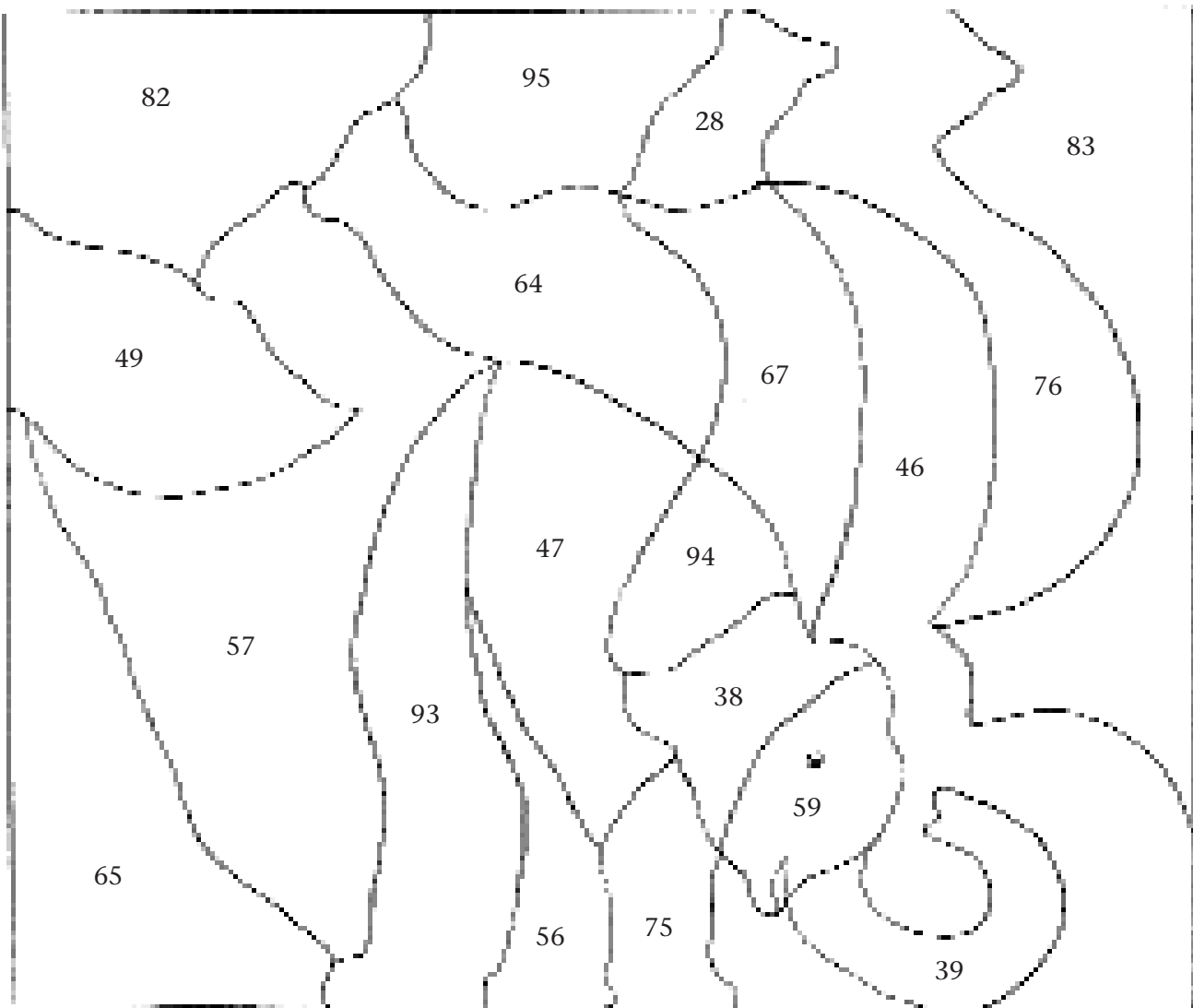


neunundsiebzig
fünfundvierzig
vierundzwanzig
sechsendachtzig
dreiundvierzig

b) Lies die Zahlen. Nun such die gleichen Zahlen im Bild. Mal die Felder aus. 

Achtunddreißig – vierundsechzig – fünfundsiebzig – achtundzwanzig – siebenundsechzig – neununddreißig – sechsendfünfzig – vierundneunzig – neunundfünfzig – siebenundvierzig

K



c) Rechne. Was kommt raus? Schreib die Zahl.

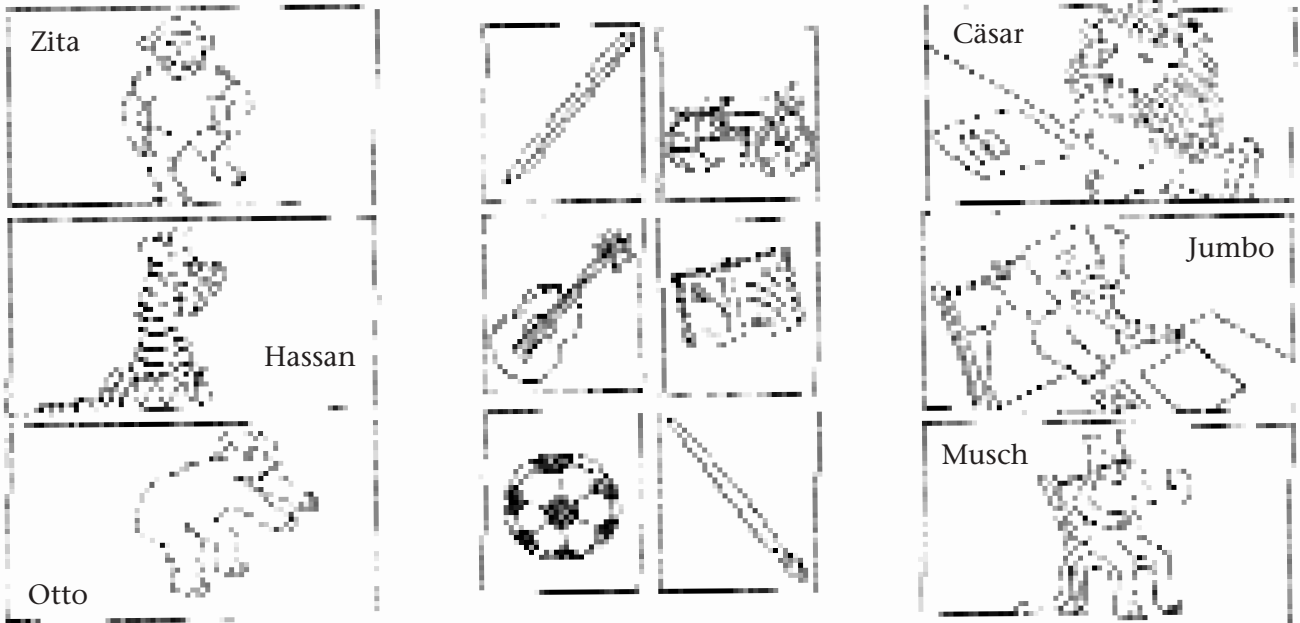
zweiunddreißig + sechsendfünfzig – einundvierzig + neunundzwanzig
– vierundsechzig + achtundsiebzig – einundfünfzig + siebenundfünfzig
– achtundsechzig + zweiundsiebzig =

*

B 12

15. Sensationen!

a) Schau die Bilder an. Was passt zusammen? Mach Pfeile. 

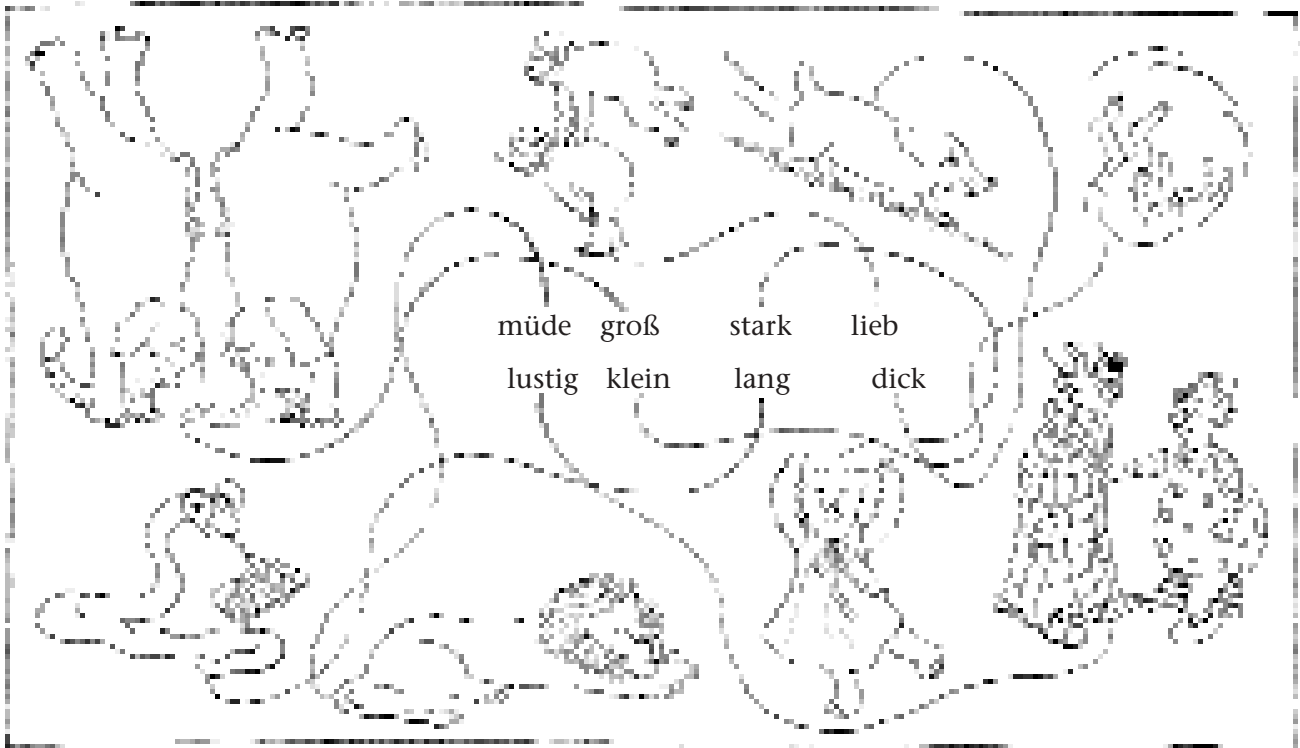


* b) Schreib Sätze in dein Heft. Beispiel: Zita kann gut Fußball spielen.

C 1-2

16. So ein Zirkus!

** Such den Weg und schreib Sätze in dein Heft. 



Schreib so: Die Elefanten sind ... Sie machen ...
Der Bär ist ... Er ...

5. Zahlenrätsel

Was ist richtig? Schreib die Zahlen auf.



A) Wo ist

der
den
das

 Stein?

14
27
36

B) Ich möchte

die
das
den

 Comic-Heft.

46
2
31

C) Gib mir bitte

den
das
die

 Muschel.

50
70
20

D) Den

Sticker

 gehört mir.

35
15
25

E) Hast du

der
das
die

 Briefmarke?

1
6
4

F) Das

Auto

 ist toll.

13
29
32

G) Da ist

den
das
die

 Bild.

48
10
32

H) Ich möchte

der
die
den

 Ring.

26
47
21

$$\frac{\quad}{A)} + \frac{\quad}{B)} + \frac{\quad}{C)} + \frac{\quad}{D)} + \frac{\quad}{E)} + \frac{\quad}{F)} + \frac{\quad}{G)} + \frac{\quad}{H)} = 99$$

6. Wo sind die Sachen?

a) Schau das Bild an und beantworte die Fragen.

